

9) IL DOTTOR ASTRONOMUS OSSERVA 3 NUOVI PIANETI NELLO SPAZIO: QUELLO ROSSO È PIÙ GRANDE DI QUELLO G I A L L O ; Q U E L L O G I A L L O È M E N O PICCOLO DI QUELLO BIANCO.
QUAL È IL PIANETA PIÙ GRANDE?

A) QUELLO ROSSO

B) QUELLO GIALLO

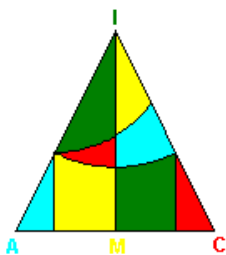
C) NON SI PUÒ STABILIRE

10) GIUSI HA 5 GOMME DA MASTICARE IN MENO DI LUCIA CHE NE HA 9. ANDREA HA UNA GOMMA IN PIÙ DI GIUSI.
QUANTE GOMME HA ANDREA?

$$A = 5$$

$$B = 9$$

$$C = 4$$



A. I. C .M.

c/o L. S. "S. Cannizzaro" Via Arimondi, 14 – Palermo

aicm@math.unipa.it

GIOCHI MATEMATICI DI SICILIA

QUALIFICAZIONE SCUOLA PRIMARIA 2009

– SECONDE CLASSI –

Nome _____ *Cognome* _____

Data di nascita _____ *Classe* _____

Scuola _____ *Provincia* _____

Nota per il docente somministratore

Si consiglia di stampare in formato A4 e impaginare le pagine con un punto di spillatrice

Si ricorda che le consegne devono essere lette dai bambini, per questo motivo vengono scritte in stampato maiuscolo

1) PAOLA HA 8 ANNI. LA SUA AMICA ANNA È NATA NELLO STESSO ANNO. QUANTI ANNI HA ANNA?

A = 6 ANNI

B = 8 ANNI

C = 10 ANNI



Obelix

2) ALLA FESTA PER IL SUO COMPLEANNO OBELIX INVITA DEGLI AMICI. ALLA FESTA ARRIVANO 5 MASCHI E 7 FEMMINE. SE OBELIX VUOLE OFFRIRE UN CINGHIALE A CIASCUN INVITATO, QUANTI CINGHIALI DOVRÀ CUCINARE PER GLI AMICI?

A = 12

B = 11

C = 5

- 3) LUCA HA GIOCATO CON LE BIGLIE: NE HAVINTE 8 DA MATTEO E 3 DA PAOLO; PRIMA DI GIOCARE LUCA AVEVA 2 BIGLIE. ORA, DOPO AVERE GIOCATO, QUANTE NE HA IN TUTTO?

A = 11

B = 12

C = 13

- 4) MARCELLA HA 4 LIBRI DI FIABE, 2 DI FANTASCIENZA E 6 DI FUMETTI. PER IL SUO COMPLEANNO GLI REGALANO 2 LIBRI DI FUMETTI E 1 DI FIABE. MARCELLA ORA HA PIÙ LIBRI DI FIABE, DI FUMETTI O DI FANTASCIENZA?



A = DI FIABE

B = DI FUMETTI





C = DI FANTASCIENZA

- 5) LOREDANA HA 10 FIGURINE E KATIA NE HA TANTE QUANTE NE HA LOREDANA. GISELLA NE HA TANTE QUANTE NE HA KATIA. CHI NE HA DI PIÙ?

A = LOREDANA

B = KATIA

C = TUTTE HANNO LO STESSO NUMERO DI FIGURINE



6) QUALE NUMERO MANCA PER COMPLETARE L'ADDIZIONE?

$$5 + \dots = 12$$

$A = 7$

$B = 4$

$C = 6$

7) SULLA MENSOLA IN CUCINA C'È UN BARATTOLO CON TANTE CARMELLE AI GUSTI DI: LIMONE, FRAGOLA, ARANCIA, MENTA E LIQUIRIZIA

ALESSIO, A CASO, PRENDE UNA CARMELLA: A LUI PIACCIONO MOLTO LE CARMELLE ALLA FRAGOLA.

PRENDERÀ UNA CARMELLA ALLA FRAGOLA?

A = È CERTO

B = È POSSIBILE

C = È IMPOSSIBILE

8) LEGGI LE INDICAZIONI E SEGNA CON UNA CROCETTA LA BUSTA GIUSTA:

HA UN RETTANGOLO A SINISTRA E UN CERCHIO A DESTRA

